

(1) 下面敘述對的在()裡畫○，錯的打×。

(×)①三角形是用 4 條邊圍起來的圖形。

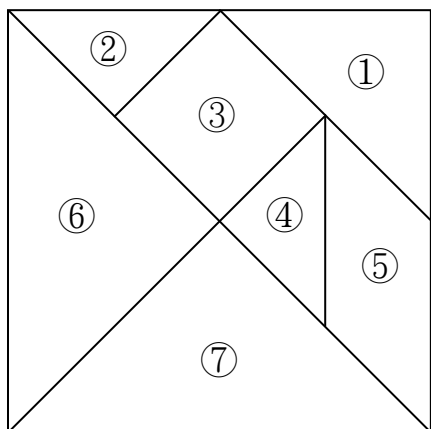
(○)②三角形有 3 個角。

(×)③三角形有 6 個頂點。

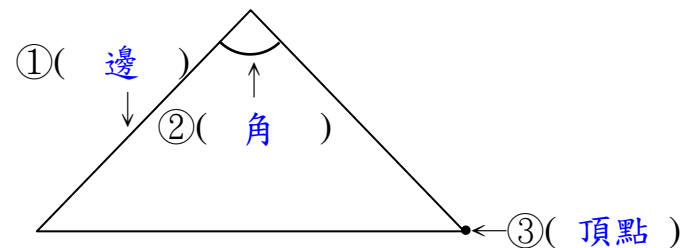
(2) 三角形有(3)個頂點、(3)條邊和(3)個角。

(3) 小明玩拼圖遊戲，他想要從下圖的七巧板中選出是三角形的圖案，小明要選哪幾號？


(①、②、④、⑥、⑦)



(4) 寫出三角形的各部位名稱。



(5) 畫出三個大小形狀不同的三角形。



《答案》本題畫法略